

ГЕОГРАФСКА КАРТА

III разред

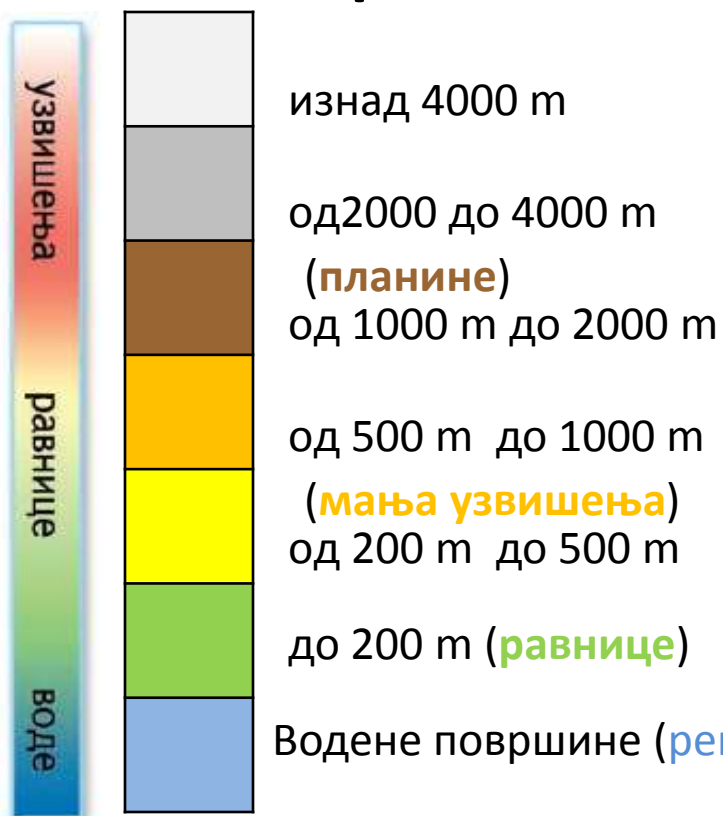
За приказивање
већих простора, на
пример државе,
континента или света
користе се географске
карте.

**Географска карта је
умањен приказ дела
Земљине површине.**



















За представљање разних објеката на карти користе се **картографске боје** и **картографски знаци**.

На географској карти **бојом су представљени различити облици рељефа:**



Да бисмо се служили картом, морамо познавати
картографске знаке:

	Државна граница		Река
	Аутопут		Планински врх
	Магистрални пут		Рудник
	Железничка пруга		Бања
	Град са више од 100 000 становника		Манастир
	Град од 50 000 до 100 000 становника		Црква
	Град од 25 000 до 50 000 становника		Аеродром
	Град од 10 000 до 25 000 становника		Историјски споменик

Картографски знаци налазе се у тумачењу знакова или легенди карте.

Свака географска карта
садржи:

назив
територије

легенду са
картографским
знацима



С

На свим географским картама
горња ивица налази се у правцу севера,
доња ивица је у правцу југа,
десна у правцу истока,
а лева – запада.

З

И

Када се у простору оријентишемо помоћу
географске карте, морамо је поставити тако
да се стране света на карти поклопе са
странама света у природи.

Ј

ЗАДАЦИ:

- Погледај карту Србије. Одреди стране света.
- На којој страни света се налази твој завичај? Којим бојама је твој завичај представљен на карти? Шта можеш на основу тога да кажеш о његовом рељефу?
- На основу легенде пронађи пет градова који имају 50 000–100 000 становника. Који су то градови?
- Наведи називе пет градова кроз које пролази аутопут Београд–Ниш.
- 5. Наведи називе пет река и пет планина у Србији.